



# Übungsseite für Lektion 1

1. Schreibe neben jede Notenlinie die dazugehörige Ziffer so wie wir es gelernt haben.




2.


Für wieviele Zählzeiten soll dieses Mittel-C gespielt werden ? \_\_\_\_\_



Für wieviele Zählzeiten soll dieses Mittel-C gespielt werden ? \_\_\_\_\_



Für wieviele Zählzeiten soll dieses Mittel-C gespielt werden ? \_\_\_\_\_



3. Beschreibe, wie die folgenden Noten gezeichnet werden:

Viertelnote: \_\_\_\_\_

Halbe Note: I'll draw an empty circle with a line going out of it.

Ganze Note: \_\_\_\_\_

4. Schreibe das Mittel-C als Viertel-, halbe und ganze Note:

